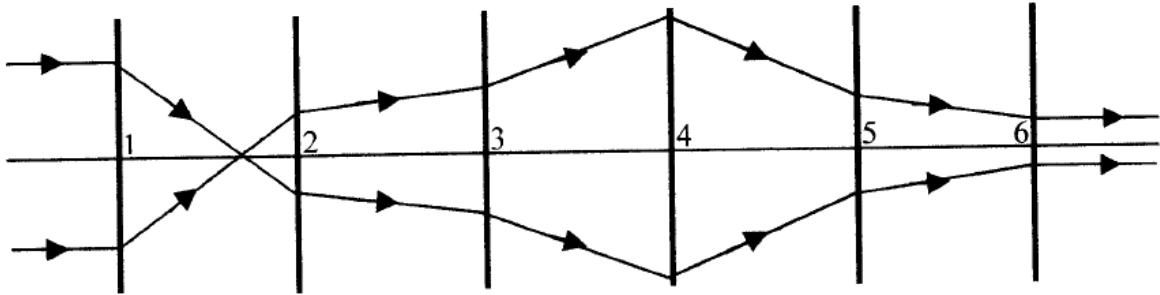
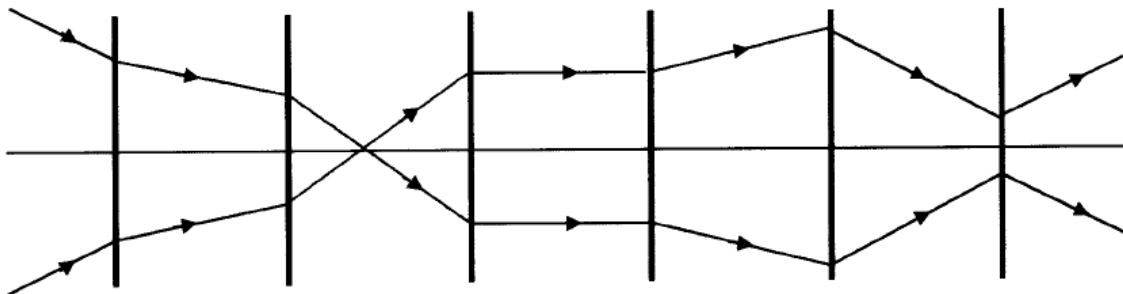


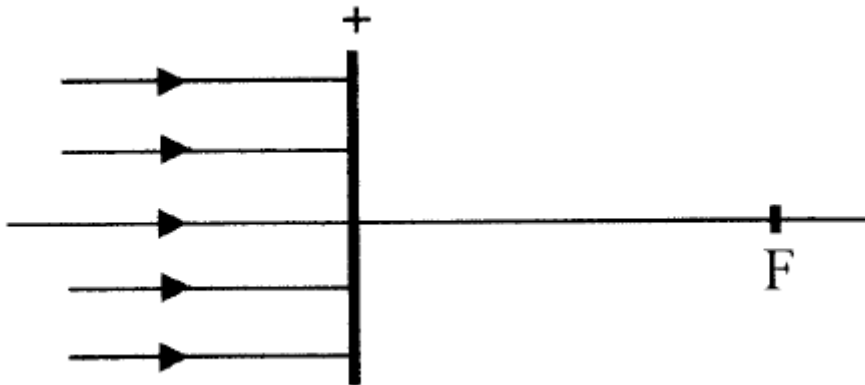
Opg.1 Noteer van elk van bovenstaande lenzen of het om een positieve of een negatieve lens gaat.



Opg. 2 Idem opgave 1

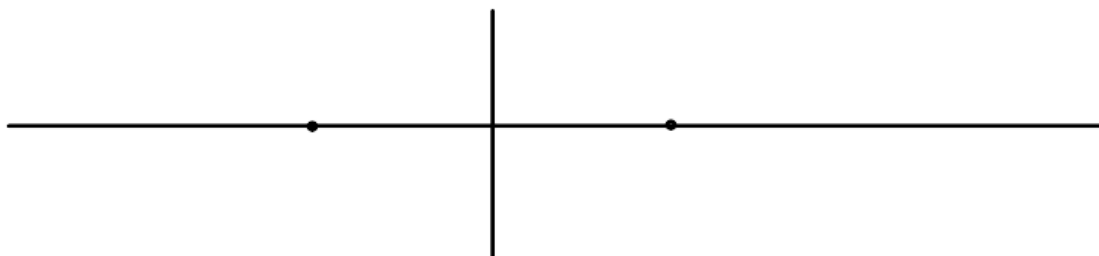


Opg. 3 Teken in onderstaande figuur het verdere verloop van de lichtstralen.



Opg. 4 Noteer in onderstaande figuur de volgende woorden op de juist plaats:


**Bolle lens, hoofd-as, brandpunt**



Opg. 5 Teken in onderstaande figuur het beeld van de pijl. Gebruik de constructiestralen.



Opg. 6 Laat zien hoe een lichtstraal van de knie (punt 'K') via de spiegel in het oog terecht komt.



Opg. 7 Laat door het tekenen van lichtstralen zien welke punten de persoon via de spiegel kan zien.

